
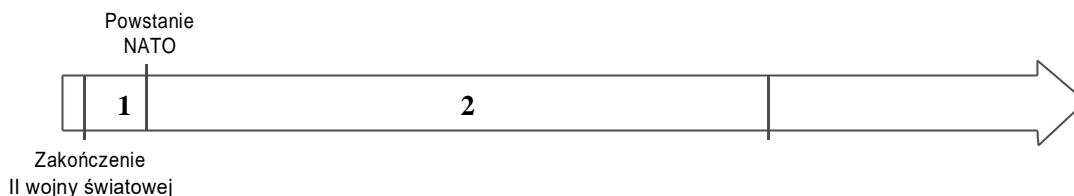


## Test podsumowujący rozdział VI



1 Zapoznaj się z osią czasu i zaznacz właściwe dokończenie zdania.




A. 1.

B. 2.

C. 3.

2 Przyjrzyj się ilustracjom i zaznacz właściwe dokończenie zdania.



1.

2.

3.

4.

Symbol Unii Europejskiej został przedstawiony na ilustracji oznaczonej cyfrą

A. 1.

B. 2.

C. 3.

D. 4.

3. Przeczytaj teksty i wykonaj polecenie.

0-2 p.

### Opis sytuacji

W jednym z państw Europy Zachodniej doszło do zamachu terrorystycznego. W wyniku ataku ranny został polski obywatel. Poszkodowany przebywa obecnie w szpitalu. Utracił kontakt ze swoją rodziną.

### Ustawa z dnia 25 czerwca 2015 r. – Prawo konsularne

Art. 20

1. Konsul udziela pomocy obywatelowi polskiemu, w szczególności w razie poważnego wypadku lub ciężkiej choroby, aresztowania lub zatrzymania tego obywatela, w razie aktu przemocy, którego ofiarą padł obywatel polski, w razie zgonu obywatela polskiego lub konieczności nagłego powrotu obywatela polskiego pozbawionego środków finansowych do Rzeczypospolitej Polskiej albo do państwa zamieszkania (pomoc konsularna).

Źródło: <http://prawo.sejm.gov.pl/>.

Rozstrzygnij, czy w opisanej sytuacji obywatel polski może liczyć na pomoc konsula Rzeczypospolitej Polskiej. Swoją odpowiedź uzasadnij, odwołując się do zamieszczonego przepisu praw

---

---

**4** Przeczytaj tekst, przyjrzyj się mapie i wykonaj polecenia.

0–3 p.

### Misja Air Policing

Misja ochrony przestrzeni powietrznej Litwy, Łotwy i Estonii jest prowadzona od 2004 r., tj. od czasu wstąpienia tych państw do NATO. W jej ramach realizowane są zadania związane z nadzorem i ochroną przestrzeni powietrznej ww. państw bałtyckich oraz zapewnieniem wsparcia lotniczego w sytuacjach nadzwyczajnych. Kontyngenty lotnicze do realizacji działań w ramach misji są wystawiane rotacyjnie przez państwa Sojuszu. Podobna misja funkcjonuje na południowych rubieżach NATO. [...] Polska wielokrotnie wydzielała siły do operacji Air Policing nad państwami bałtyckimi [...].

Źródło: <http://www.msz.gov.pl/>.

### Mapa konturowa współczesnej Europy



4.1. Wypisz cyfry, którymi oznaczono na mapie państwa objęte misją Air Policing.

---

4.2. Wyjaśnij, jaki jest cel misji Air Policing.

---

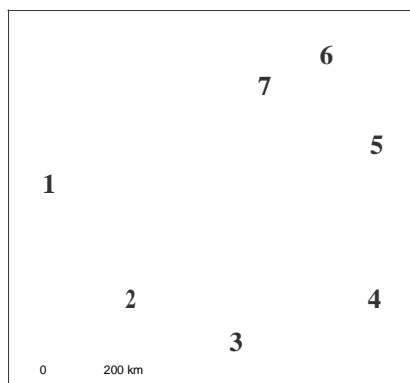


---

**5** Zapoznaj się z mapą i wykonaj polecenia.

0–3 p.

### Polska i jej sąsiedzi



5.1. Uzupełnij tabelę. Podaj nazwy dwóch państw sąsiadujących z Polską, które nie są członkami Unii Europejskiej, i cyfry, którymi oznaczono je na mapie.

Nazwa państwa	Cyfra

5.2. Wpisz w odpowiednie rubryki nazwę państwa, którego dotyczy zamieszczona informacja, oraz cyfrę, którą oznaczono je na mapie.

	Nazwa państwa	Cyfra
Jedno z państw założycielskich Europejskiej Wspólnoty Węgla i Stali		

**6** Zapoznaj się z tabelą i wykonaj polecenia.

0–3 p.

#### Wyniki wyborów i podział mandatów – maj 2014 r.

Numer listy	Nazwa	Liczba głosów	Odsetek wszystkich głosów	Liczba mandatów
1.	Komitet Wyborczy Solidarna Polska Zbigniewa Ziobro	281 079	3,98%	0
2.	Komitet Wyborczy Wyborców Ruch Narodowy	98 626	1,40%	0
3.	Koalicyjny Komitet Wyborczy Sojusz Lewicy Demokratycznej – Unia Pracy	667 319	9,44%	5
4.	Komitet Wyborczy Prawo i Sprawiedliwość	2 246 870	31,78%	19
5.	Koalicyjny Komitet Wyborczy Europa Plus Twój Ruch	252 779	3,58%	0
6.	Komitet Wyborczy Polska Razem Jarosława Gowina	223 733	3,16%	0
7.	Komitet Wyborczy Nowa Prawica Janusza Korwin-Mikkego	505 586	7,15%	4
8.	Komitet Wyborczy Platforma Obywatelska RP	2 271 215	32,13%	19
9.	Komitet Wyborczy Polskie Stronnictwo Ludowe	480 846	6,80%	4
10.	Komitet Wyborczy Demokracja Bezpośrednia	16 222	0,23%	0
11.	Komitet Wyborczy Samoobrona	2 729	0,04%	0
12.	Komitet Wyborczy Partia Zieloni	22 481	0,32%	0
	Komitety razem	7 069 485	100%	51

Źródło: <http://pkw.gov.pl/>.

6.1. Podaj nazwę organu Unii Europejskiej, którego członków wybrano w maju 2014 r.

---

6.2. Określ, ile osób reprezentuje Polskę w organie UE, którego dotyczy tabela.

---

6.3. Odpowiedz, jaki odsetek wyborców zagłosował na Platformę Obywatelską RP.

---

- 7** Oceń, czy poniższe stwierdzenia dotyczące obywatelstwa Unii Europejskiej są prawdziwe. Zaznacz *P*, jeśli zdanie jest prawdziwe, albo *F* – jeśli jest fałszywe.

0–1 p.

Osoba, która nabywa obywatelstwo polskie, jednocześnie staje się obywatelem Unii Europejskiej.	P	F
Obywatele państw członkowskich Unii Europejskiej mogą skorzystać z prawa do swobodnego poruszania się po terytorium Polski.	P	F

- 8** Wyjaśnij, dlaczego zamieszczone zdjęcia mogłyby ilustrować proces globalizacji.

0–2 p.



USA



Kuwejt



Rosja

---



---



---



---

- 9** Przeczytaj tekst i zaznacz właściwe dokończenie zdania.

0–1 p.

Adam, obywatel polski, jest producentem mebli. Prowadzi firmę zarejestrowaną w Polsce. Swój towar sprzedaje klientom z Niemiec i Francji, nie ponosi jednak dodatkowych kosztów, np. w postaci opłat celnych.

Firma prowadzona przez Adama czerpie korzyści z obowiązywania w UE zasady swobodnego przepływu

A. osób.                                      B. usług.                                      C. kapitału.                                      D. towarów.

- 10** Wskaż jeden pozytywny dla Polski i jej mieszkańców skutek procesu globalizacji.

0–1 p.

---



---



---

- 11** Wymień dwie różnice między państwami zaliczanymi do Południa i krajami należącymi do Północy.

0–2 p.

- ---
- ---